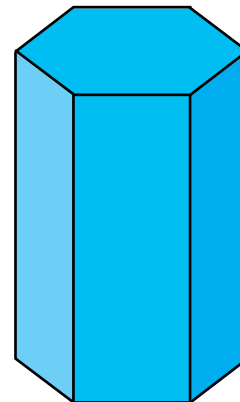
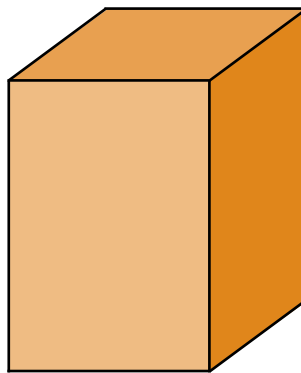
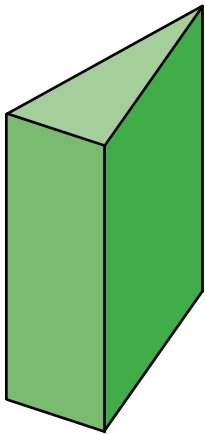


1. Encierra las respuestas correctas.

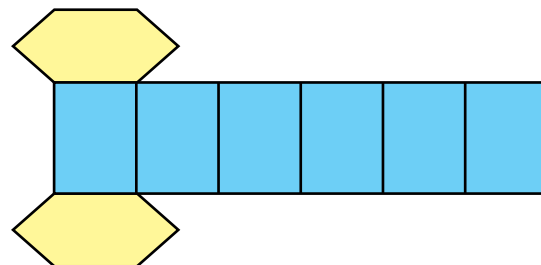
- ▶ Es la superficie de un objeto e involucra el ancho y el largo del mismo.
A. Área B. Perímetro C. Longitud
- ▶ El área o superficie se mide en unidades:
A. Simples B. Cúbicas C. Cuadradas

2. Identifica y nombra los siguientes prismas.



3. Identifica el prisma que corresponde a este desarrollo.

- Sus bases son _____.
- Sus caras laterales son _____.
- Es un prisma _____.



SC 16: Prismas. Áreas de prismas

4. Escribe los elementos del prisma.

