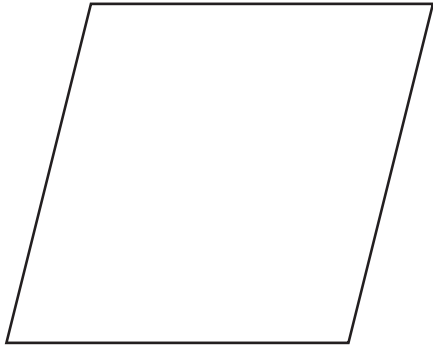


1. Colorea de verde las siguientes superficies planas.



2. Mide el ancho y el largo de los siguientes polígonos.




- Ancho: _____ cm.
- Largo: _____ cm.




- Ancho: _____ cm.
- Largo: _____ cm.

3. Mide, con tu regla, el ancho, el largo y la altura de los siguientes prismas.



- Ancho: _____ cm.
- Largo: _____ cm.
- Altura: _____ cm.



- Ancho: _____ cm.
- Largo: _____ cm.
- Altura: _____ cm.

4. Lee y, luego, responde.

- Para medir el área o superficie de una habitación, ¿qué unidad de área utilizarías?

- Para medir el volumen de un lago, ¿qué unidad de volumen utilizarías?

5. Encierra en un círculo las unidades de área y en un cuadrado las unidades de volumen.

25 cm²

5 km²

8 m²

3 m³

5 cm³

20 km³