
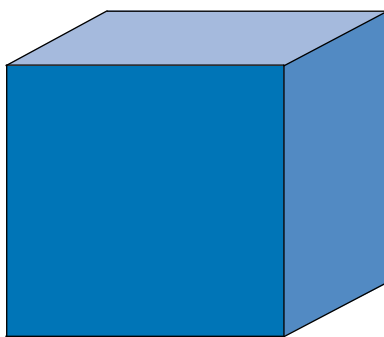


1. **Repasa** con rojo el ancho, con azul el largo y con verde la altura del siguiente cuerpo.



2. **Mide**, con tu regla, el ancho, el largo y la altura de los siguientes cuerpos.

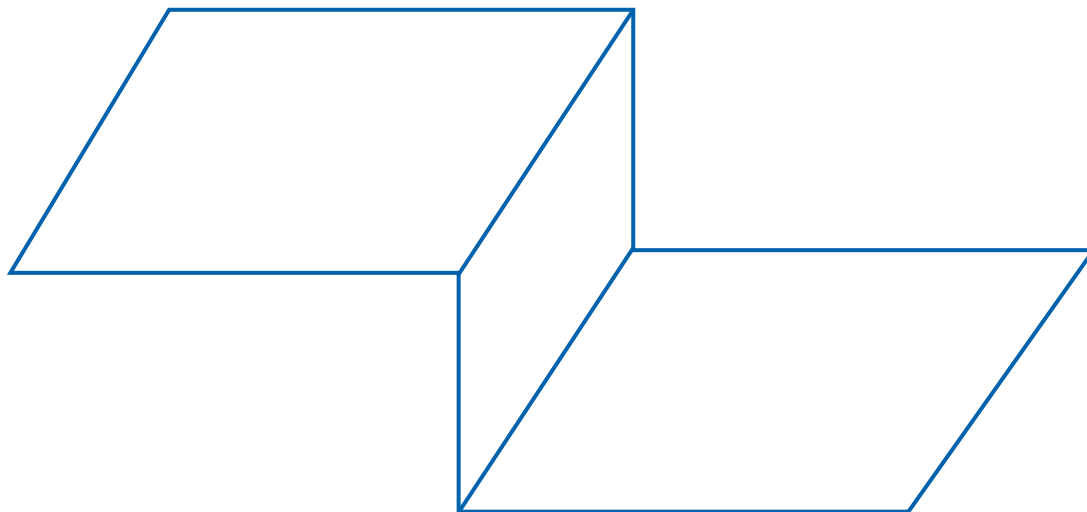


- Ancho: _____ cm
- Largo: _____ cm
- Altura: _____ cm



- Ancho: _____ cm
- Largo: _____ cm
- Altura: _____ cm

3. Mide, con tu regla, el ancho, el largo y la altura de la siguiente estructura.



4. Lee y, luego, responde.

• Para medir el volumen de un objeto, *¿qué medidas o dimensiones del mismo debes conocer?* _____

• Para medir el volumen de una piscina, *¿cuáles son los pasos que debes seguir?* _____

5. Encierra en un círculo las unidades de área y en un cuadrado las unidades de volumen.

• 75 cm²

• 15 km²

• 28 m²

• 32 m³

• 6 cm³

• 50 km³