

1. Encierra las respuestas correctas.

► El área de un cuadrado que mide 5 cm de lado es:

A. 30 cm

B. 25 cm

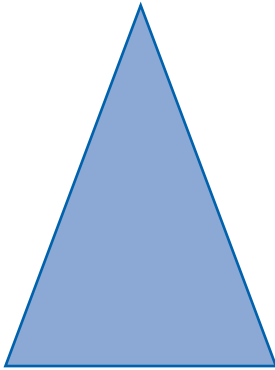
C. 20 cm

► La medida de un lado de un terreno cuadrado que tiene 49 m^2 :

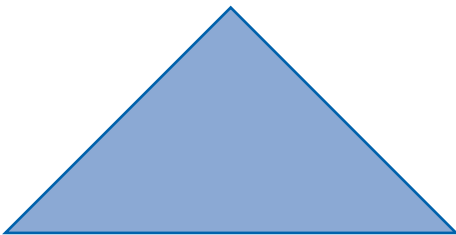
A. 14 cm

B. 28 cm

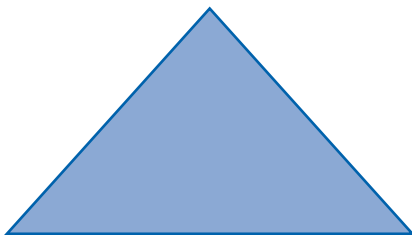
C. 7 cm

2. Calcula el área de los siguientes triángulos.

- Base: 6 cm.
- Altura: 8 cm.
- Área: _____



- Base: 10 cm.
- Altura: 5 cm.
- Área: _____

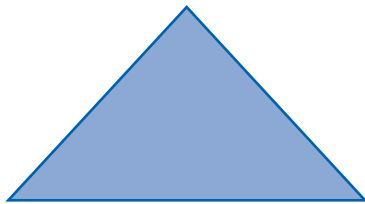


- Base: 9 cm.
- Altura: 5 cm.
- Área: _____

3. Calcula las siguientes áreas.

- Un rectángulo que tiene 10 cm de base y 8 cm de altura.
- Un rectángulo que tiene 15 cm de base y 9 cm de altura.
- Un rectángulo que tiene 5 cm de base y 10 cm de altura.
- Un rectángulo que tiene 9 cm de base y 5 cm de altura.

4. Determina el área de las siguientes figuras.



- Base: 20 cm.
- Altura: 12 cm.
- Área: _____



- Base: 15 cm.
- Altura: 7.5 cm.
- Área: _____

5. Resuelve los siguientes problemas.

- Un terreno de forma rectangular, mide 225 m de ancho y 175 m de largo. *¿Cuál es el área del terreno?*
- Una cerámica cuadrada para piso mide 50 cm de lado. *¿Cuál es el área de la cerámica?*