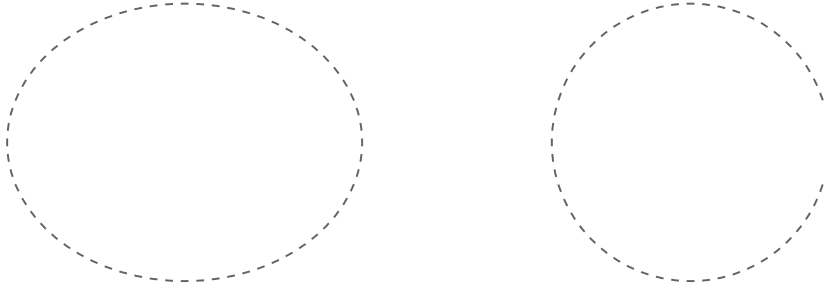



1. Repasa con azul la circunferencia y colorea de amarillo el círculo.




2. Completa las siguientes expresiones.

- El _____ es el segmento que une el centro de la circunferencia con cualquier punto de ella.
- La _____ es cualquier segmento que une dos puntos cualquiera de la circunferencia.
- El _____ es la cuerda que pasa por el centro de la circunferencia.
- La _____ es un conjunto de todos los puntos del plano que equidistan de un mismo punto llamado centro.
- El _____ está formado por la circunferencia y su región interior.

3. Traza con colores distintos, en el siguiente círculo, el centro, el diámetro, el radio y la cuerda.



4. Usa el compás y **dibuja** dos círculos congruentes y dos semejantes.



5. **Diseña** un paisaje natural en el que prevalezcan la circunferencia, el círculo y sectores circulares, luego, **coloréalo** a tu gusto.