


## SC 11: Polígonos

1. Escribe los nombres de los polígonos siguientes.



---



---



---



---





---

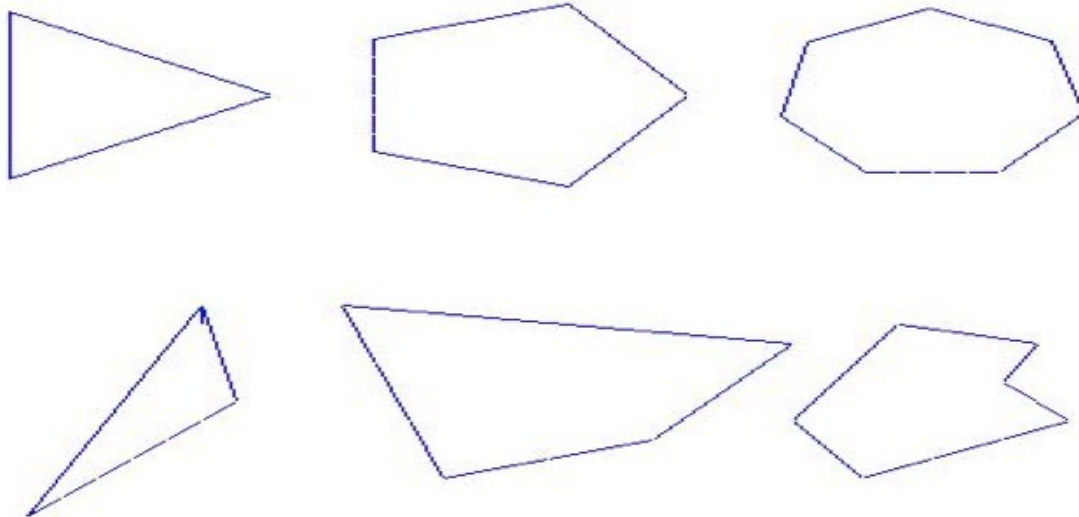


---

2. Marca con azul las líneas poligonales y **encierra** con amarillo los planos.



3. **Colorea** de azul los polígonos regurales y de verde los irregulares.



4. **Escribe** los nombres de las partes destacadas en el polígono.

