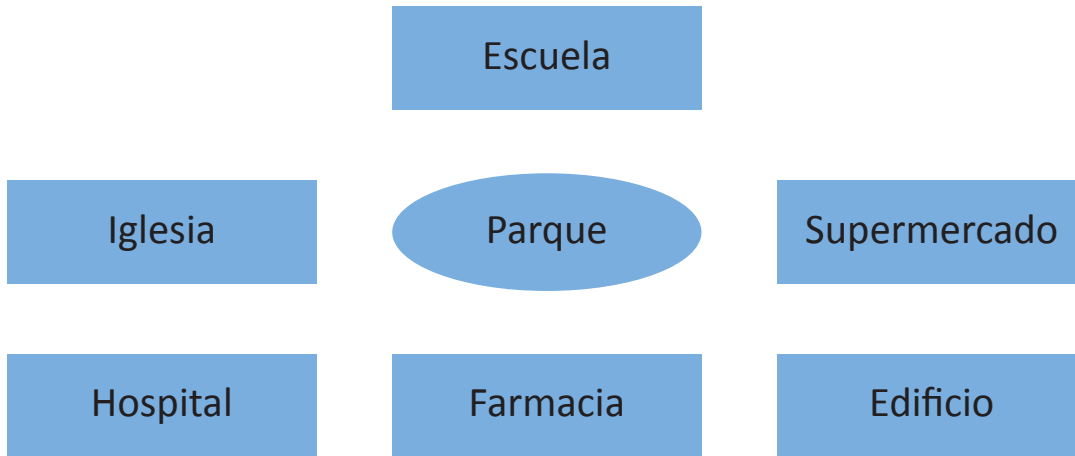


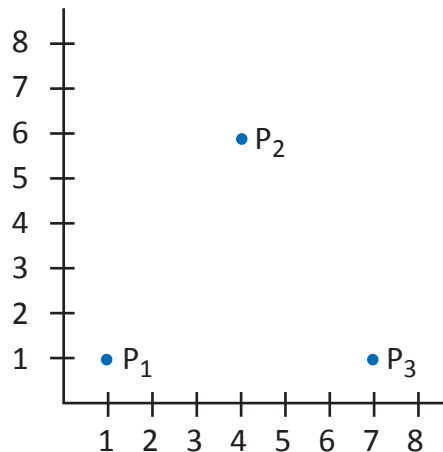
1. Observa el croquis y, luego, responde.



- ¿Qué está ubicado al norte del parque? _____
- ¿Qué está ubicado al sur del supermercado? _____
- ¿En qué posición se encuentra la escuela? _____
- ¿Qué se encuentra al norte y al este del hospital? _____
- ¿Qué está ubicado al oeste del supermercado? _____

2. Identifica los puntos que forman los vértices del triángulo en el plano y, luego, trázalo.

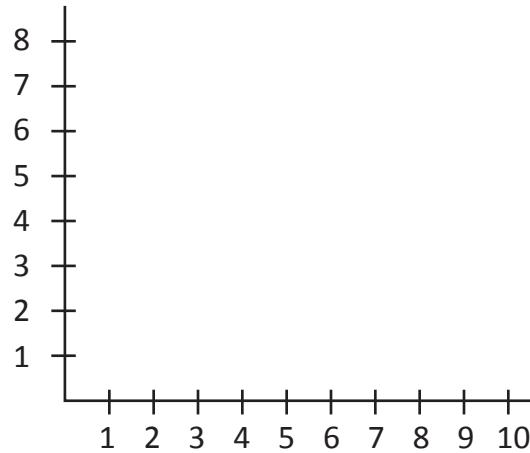
- $P_1 =$ _____
- $P_2 =$ _____
- $P_3 =$ _____



SC 14: Coordenadas cartesianas

3. **Construye** un rectángulo en la siguiente cuadrícula y, luego, **escribe** sus puntos de coordenadas.

- $P_1 =$ _____
- $P_2 =$ _____
- $P_3 =$ _____
- $P_4 =$ _____



4. **Construye** la ruta que realizas desde el área de juegos de la escuela hasta tu aula.

5. **Describe** de cuántas maneras se puede llegar a la escuela.

