




SC 19: Recolección y registro de datos

1. Clasifica y cuenta los datos y, después, regístralos en la tabla de frecuencias.



| Tabla de frecuencias | | | | | |
|--|--|--|--|--|--|
|  | |  | |  | |

2. Con los datos de la actividad 1, construye el gráfico de barras.


SC 19: Recolección y registro de datos

3. Con las siguientes calificaciones, **construye** la tabla de frecuencias y, después, el gráfico de barras.

85 – 85 – 80 – 75 – 75 – 75 – 80 – 80

80 – 80 – 85 – 75 – 80 – 85 – 80 – 75

• Construye la tabla de frecuencias.

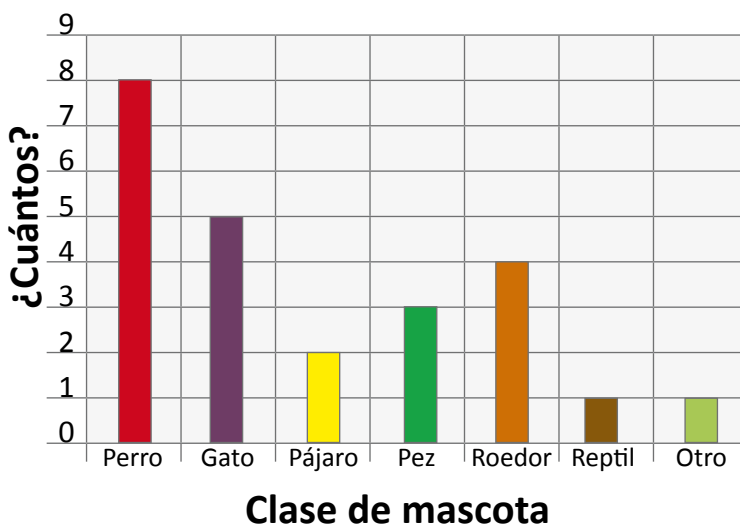


• Construye el gráfico de barras.



4. **Observa** el siguiente gráfico de barras y, luego, **responde** las preguntas.

¿Qué clase de mascota tienes?



- ¿Qué mascota tiene la mayor frecuencia? _____
- ¿Qué mascota tiene 4 de frecuencia? _____
- ¿Cuántas personas fueron encuestadas? _____
- ¿Qué mascota obtuvo el segundo lugar en predilección?

- ¿Qué mascotas tienen las mismas frecuencias?
