
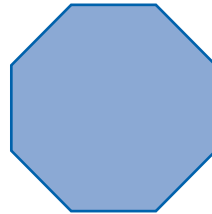
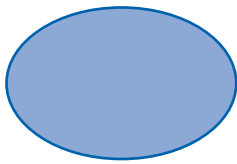
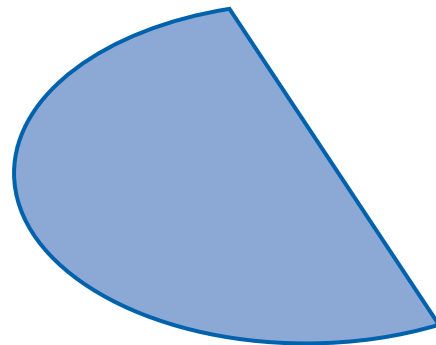



SC 14: La circunferencia

1. Encierra las figuras que son redondas.





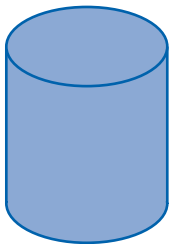
2. Clasifica las siguientes líneas curvas en abiertas y cerradas.



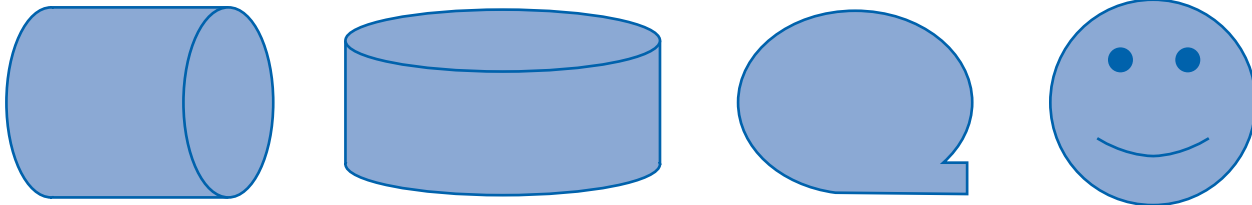
• Es una curva _____.

• Es una curva _____.

3. Identifica las líneas curvas presentes en las siguientes figuras.



4. Destaca con color rojo, el círculo en los siguientes cuerpos y figuras.



5. Colorea de verde el sector interior y **bordea** el contorno de amarillo en los círculos siguientes.

