


1. **Observa** el ejemplo y, luego, **completa** la tabla siguiente.

Litros	Medios litros	Cuartos de litros
2 litros	$2 \times 2 = 4$ medios litros	$2 \times 4 = 8$ cuartos de litros
4 litros		
5 litros		
6 litros		
8 litros		
10 litros		

2. **Ordena** de mayor a menor capacidad los siguientes recipientes.



3. **Ordena** de menor a mayor capacidad los siguientes recipientes.



SC 18: Capacidad

4. **Estima** la capacidad de estos recipientes. **Escoge** la respuesta correcta.



- 3 litros.
- 300 litros.

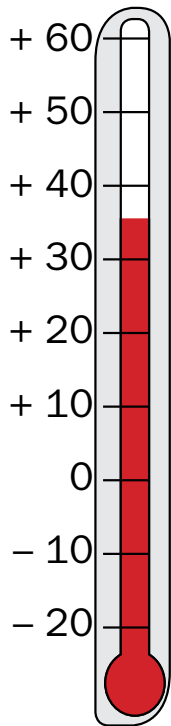


- 5 litros.
- 50 litros.

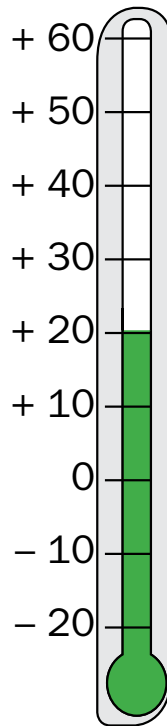


- 1 litros.
- 1 000 litros.

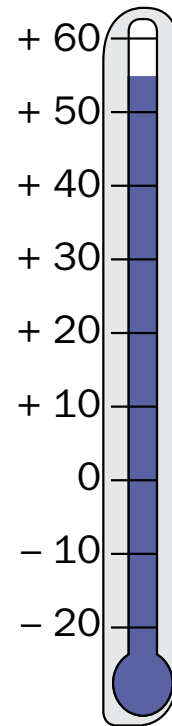
5. **Escribe** la temperatura que marca cada termómetro.



\_\_\_\_\_ °C



\_\_\_\_\_ °C



\_\_\_\_\_ °C