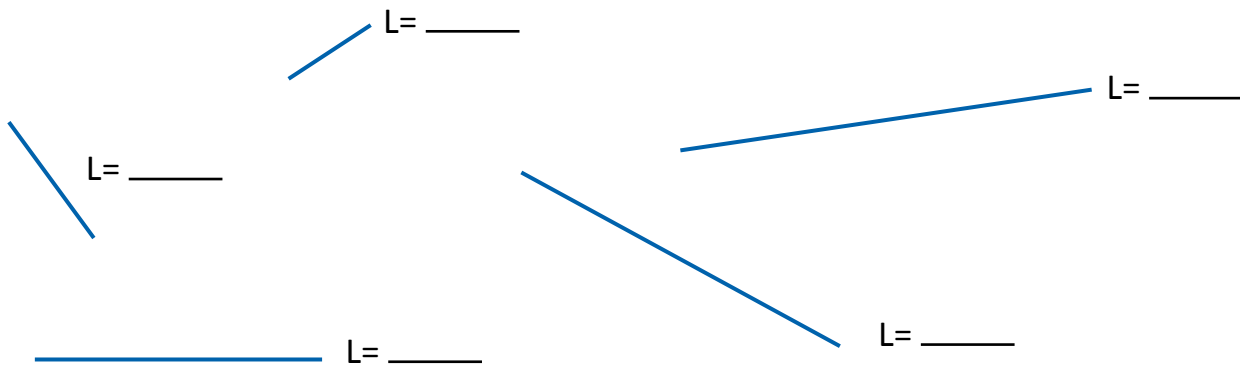


1. **Mide** con tu regla la longitud de cada segmento y, luego, **ordénalos** de menor a mayor.



2. **Estima** las medidas aproximadas de los siguientes segmentos y, luego, **mídelos** con tu regla y **comprueba** qué tan cerca estuviste de la realidad.




- Estimación: _____ cm
- Medida real: _____ cm




- Estimación: _____ cm
- Medida real: _____ cm


3. **Mide** con tu regla la longitud de los lados de los siguientes polígono y, después, **escribe** sus medidas.







4. **Mide** con tu regla y, luego, **calcula** la longitud del siguiente recorrido.



Recorrido	Primero	Segundo	Tercero	Cuarto	Quinto	Total
Longitud (cm)						

5. **Relaciona** las longitudes que son equivalentes.

- 400 cm
- 7 m
- 900 cm
- 2 m
- 700 cm
- 9 m
- 200 cm
- 4 m