

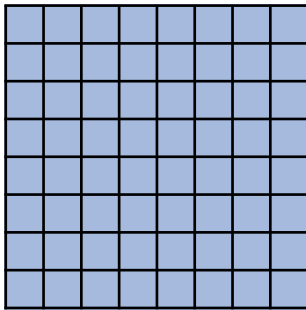
1. Encierra las respuestas correctas.

► Es la superficie de un objeto e involucra el ancho y el largo del mismo.

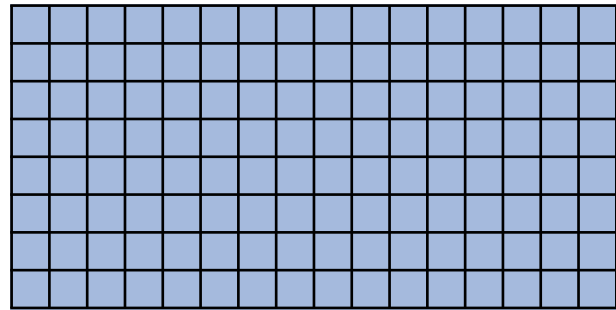
A. Área B. Perímetro C. Longitud

► El área o superficie se mide en unidades:

A. Simples B. Cúbicas C. Cuadradas

2. Calcula el área de las figuras contando los cuadritos.

• Área: _____ cuadritos.



• Área: _____ cuadritos.

3. Encierra la unidad de medida de área que utilizarías en cada caso.

► Para calcular el área del sector donde vives.

A. Cm^2 B. M^2 C. Km^2

► Para calcular el área de la cocina de tu casa.

A. Cm^2 B. M^2 C. Km^2

► Para calcular el área de tu cuaderno de Matemática.

A. Cm^2 B. M^2 C. Km^2

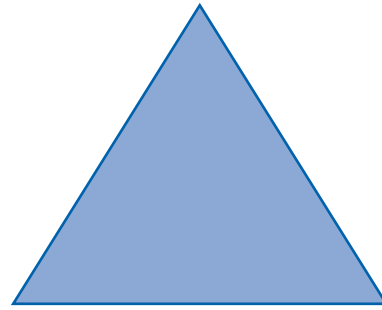
► Para calcular el área del aula de cuarto grado

A. Cm^2 B. M^2 C. Km^2

4. Determina el área de las siguientes figuras.

• Base: 5 cm Altura: 4 cm

• Área = _____



• Base: 12 cm Altura: 4.5 cm

• Área = _____



5. Resuelve los siguientes problemas.

- Elena desea comprar un gavetero para colocarlo en su habitación. El gavetero mide 50 cm de ancho y 30 cm de largo. *¿Cuál es el área que ocupará el gavetero en la habitación de Elena?*
- Una cerámica cuadrada para piso mide 30 cm de lado. *¿Cuál es el área de la cerámica?*